


Zadanie 1


Narysuj w ramce obrazek:

- w lewym górnym rogu – niebieską chmurkę,
- w prawym górnym rogu – żółte słońeczko,
- w lewym dolnym rogu – drzewko, a obok drzewka grzybki,
- w prawym dolnym rogu – domek,
- pośrodku ramki – dziewczynkę i chłopca.




Zadanie 2

Dorysuj lub skreśl tyle kwiatków w wazonikach, aby w każdym było po tyle samo.



Zadanie 3


Narysuj w okienkach tyle kresek, ile jest kół, kwadratów i trójkątów.



Zadanie 4




Policz, ile jest kół na rysunku. Narysuj w ramce po lewej stronie więcej kół niż jest na rysunku, a w ramce po prawej mniej kół.



Zadanie 5


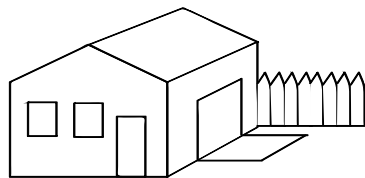

Pokoloruj czwarte jabłko od prawej strony i trzeci koszyk od lewej strony.



Zadanie 6

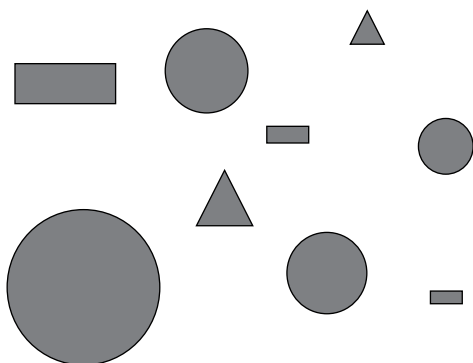
Pokoloruj domki według opisu:




- domek z czerwonym dachem jest najwyższy,
- domek z zielonym dachem jest najniższy,
- dach domku, nad którym jest słońce, jest żółty.



Zadanie 7







Policz figury. Ile jest kół, prostokątów i trójkątów? Wpisz w ramkę odpowiednie liczby.



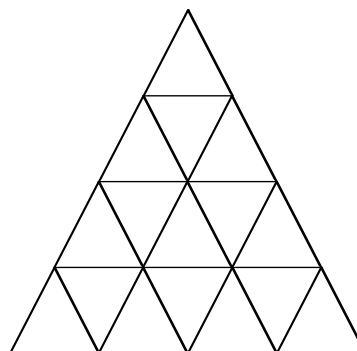
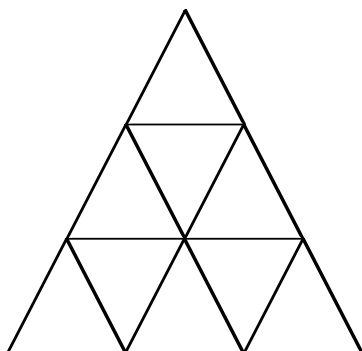
Zadanie 8

Popatrz na kostki w każdej ramce. Policz, ile jest oczek na kostkach, które są u góry ramki. Na każdej kostce, która znajduje się niżej, narysuj tyle oczek, ile jest razem na kostkach wyżej.

 <input type="text"/>	 <input type="text"/>	 <input type="text"/>
 <input type="text"/>	 <input type="text"/>	 <input type="text"/>

Zadanie 9

Których trójkątów jest mniej: po prawej stronie czy po lewej?
Narysuj przy nich uśmiechniętą buźkę. 😊



Zadanie 10

Pokoloruj chmurki tak, aby rysunek był zgodny z działaniem.




$$1+2+1$$



Zadanie 11



Połącz chmurki z odpowiednim wynikiem.


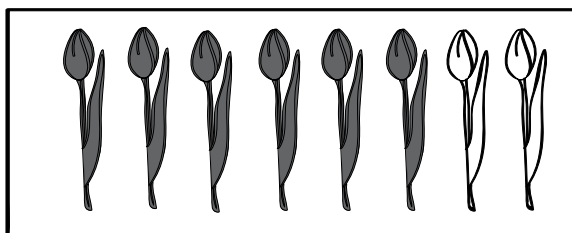


5 8 9 4 3 7 6 9 6 7 5

Zadanie 12



Dopasuj działanie do rysunku.





$7-4=3$

$6+2=8$

$6-3=3$

$5+3=8$





Zadanie 13

Ile pierników w kształcie serca Tomek wyjął z pierwszego pudełka, a ile z drugiego? Połącz działania z odpowiednimi rysunkami.


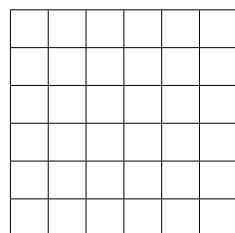
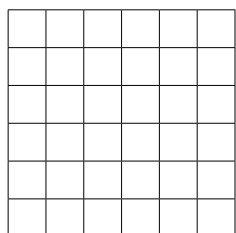
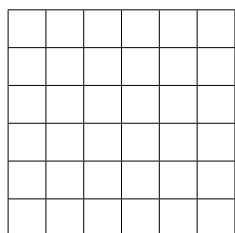
$10-4=6$

$10-5=5$



Zadanie 14


W każdej ramce pokoloruj 9 krerek tak, aby otrzymać inny wzór.



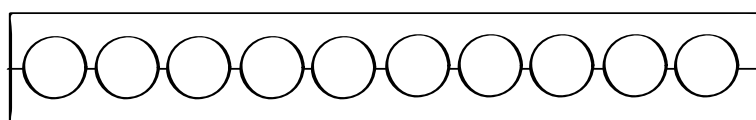
Zadanie 15

Pokoloruj koraliki tak, aby pasowały do działań.


$4+5=$



$3+4=$



$6+2=$




Zadanie 16

Dorysuj lub skreśl gwiazdki, aby w każdym rzędzie było ich tyle, ile wskazuje liczba.

9	☆ ☆ ☆ ☆ ☆
7	☆ ☆ ☆ ☆ ☆ ☆ ☆
8	☆ ☆ ☆
5	☆ ☆ ☆ ☆ ☆
3	☆ ☆ ☆ ☆ ☆ ☆

Zadanie 17

Na rysunku są cukierki Ani. Ile ich jest?



Ania zjadła jednego cukierka w poniedziałek i jednego we wtorek.
Ile cukierków zostało Ani?

Grid for writing the answer.

Odp.

Zadanie 18



Mama rozwiesiła na 3 sznurkach 7 bluzeczek z krótkim rękawkiem. Jak mama mogła rozwiesić te bluzki? Narysuj różne rozwiązania i zapisz obliczenia.

Large grid for drawing solutions and calculations.

