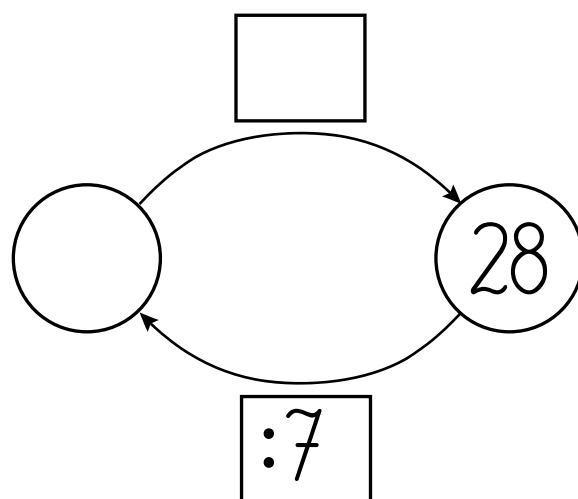
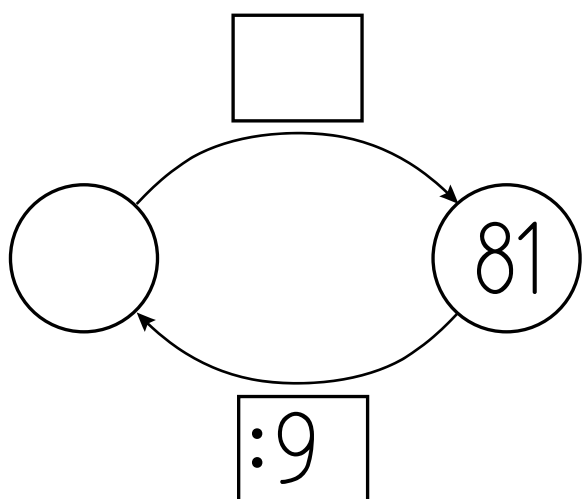
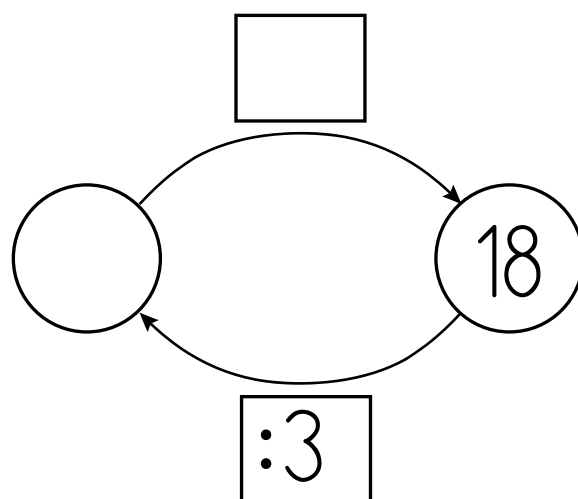
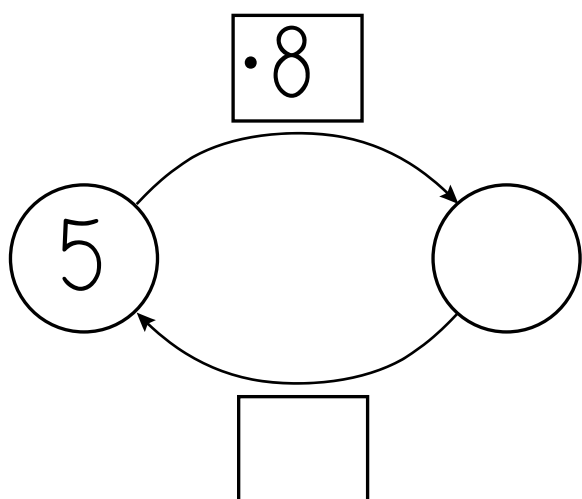
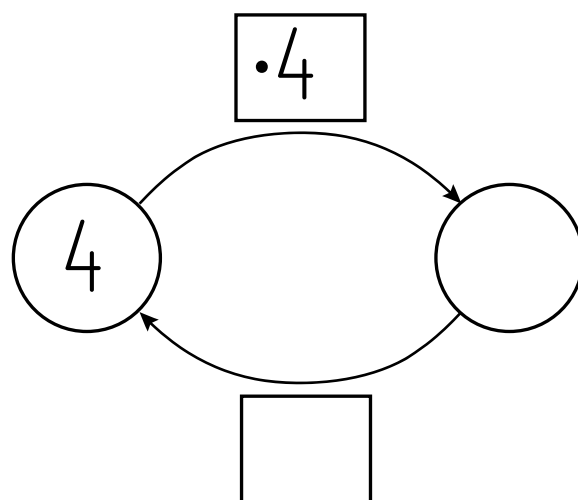
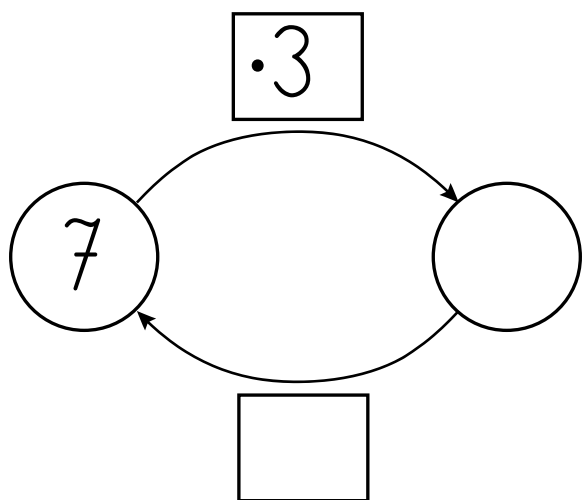




Zadanie 1

Uzupełnij grafy.




Zadanie 1

Podziel czekolady zgodnie z działaniami. Zapisz wyniki.





$24:2=$

$24:3=$




$24:4=$

$24:6=$



$24:8=$

$20:5=$



$20:2=$

$18:6=$

Zadanie 1



Uzupełnij tabelkę matematyczną.

·3	3		9		7		5	:3
		24		12		30		

·5	8		2		6		3	:5
		35		25		45		

Zadanie 2

Pokoloruj pola z wynikami równymi 18, 24, 36, a pomożesz dziewczynce odnaleźć wózek dla lalek.

$2 \cdot 5 =$	$6 \cdot 4 =$	$6 \cdot 6 =$	$6 \cdot 3 =$		
$7 \cdot 3 =$	$8 \cdot 3 =$	$6 \cdot 5 =$	$2 \cdot 6 =$		
$6 \cdot 1 =$	$9 \cdot 2 =$	$5 \cdot 5 =$	$4 \cdot 3 =$		
$4 \cdot 3 =$	$9 \cdot 4 =$	$4 \cdot 7 =$	$8 \cdot 5 =$	$3 \cdot 3 =$	$7 \cdot 7 =$
		$8 \cdot 5 =$	$6 \cdot 8 =$	$7 \cdot 5 =$	$9 \cdot 3 =$
		$6 \cdot 7 =$	$8 \cdot 4 =$	$7 \cdot 6 =$	$8 \cdot 8 =$

Zadanie 1

W torebce jest 25 cukierków. 5 dzieci chce je podzielić po równo dla każdego. Ile cukierków dostanie jedno dziecko?

Odp.

Zadanie 2

Dziadek kupił 18 jajek w 3 wytłaczankach. Ile jajek było w jednej wytłaczance?

Odp.

Zadanie 3

W opakowaniu jest 30 pierniczków. Trzeba je podzielić po równo dla 10 dzieci. Ile pierniczków dostanie każde dziecko?

Odp.

Zadanie 4

W pewnej grze jest 48 żetonów, które trzeba rozdzielić po równo dla 6 graczy. Po ile żetonów dostanie każdy gracz?

Odp.

Zadanie 5

Wujek posadził w 5 rzędach 50 marchewek. Ile marchewek jest w jednym rzędzie, jeśli wiadomo, że w każdym rzędzie jest po tyle samo marchewek?

Odp.

