


Zaznacz drogę do zamku, wykonaj działania, które spotkasz po drodze.



$17 - 3 - 5 =$

$3 + 3 + 7 =$

$4 + 9 - 5 =$

$4 + 4 + 5 =$

$5 + 3 + 8 =$

$12 - 0 - 6 =$

$18 - 2 - 9 =$

$8 + 5 + 6 =$

$5 + 2 + 7 =$

$12 - 5 - 4 =$


$11 - 2 - 0 =$

$6 + 6 + 6 =$

$3 + 11 + 3 =$

$19 - 0 - 9 =$

$4 + 3 + 5 =$



Pokoloruj obrazek według opisu:

6 zielony

9 czerwony

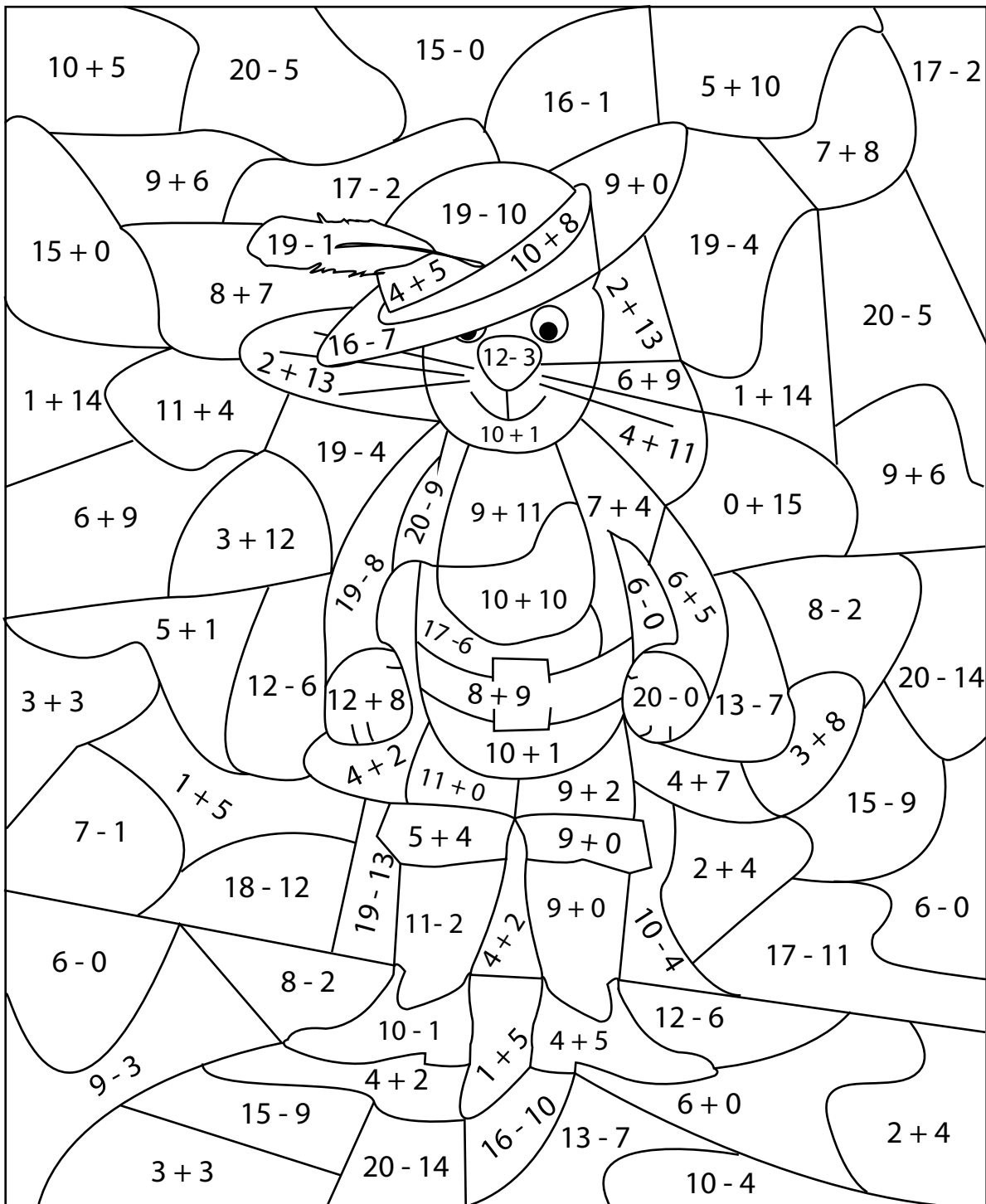
11 brązowy

15 niebieski


17 fioletowy


18 żółty

20 pomarańczowy



Uzupełnij grafy matematyczne.





- | | | |
|---------------------|---------------------------------------|--|
| 0. 3 pola do przodu | 7. 4 pola do tyłu | 14. wymień trzy liczby większe od 5, a mniejsze od 15 |
| 1. 2 pola do tyłu | 8. wymień trzy liczby parzyste | 15. wymień trzy liczby większe od 3, a mniejsze od 13 |
| 2. 1 dodatkowy rzut | 9. wymień trzy liczby nieparzyste | 16. wymień dni tygodnia |
| 3. strata kolejki | 10. policz od 1 do 20 | 17. wymień nazwy miesięcy |
| 4. zrób 3 przysiady | 11. policz od 20 do 1 | 18. wymień nazwy pór roku |
| 5. zrób 3 skłony | 12. wymień trzy liczby większe od 12 | 19. wymień trzy liczby większe od 7, a mniejsze od 12 |
| 6. 4 pola do przodu | 13. wymień trzy liczby mniejsze od 13 | 20. wymień trzy liczby większe od 10, a mniejsze od 20 |